


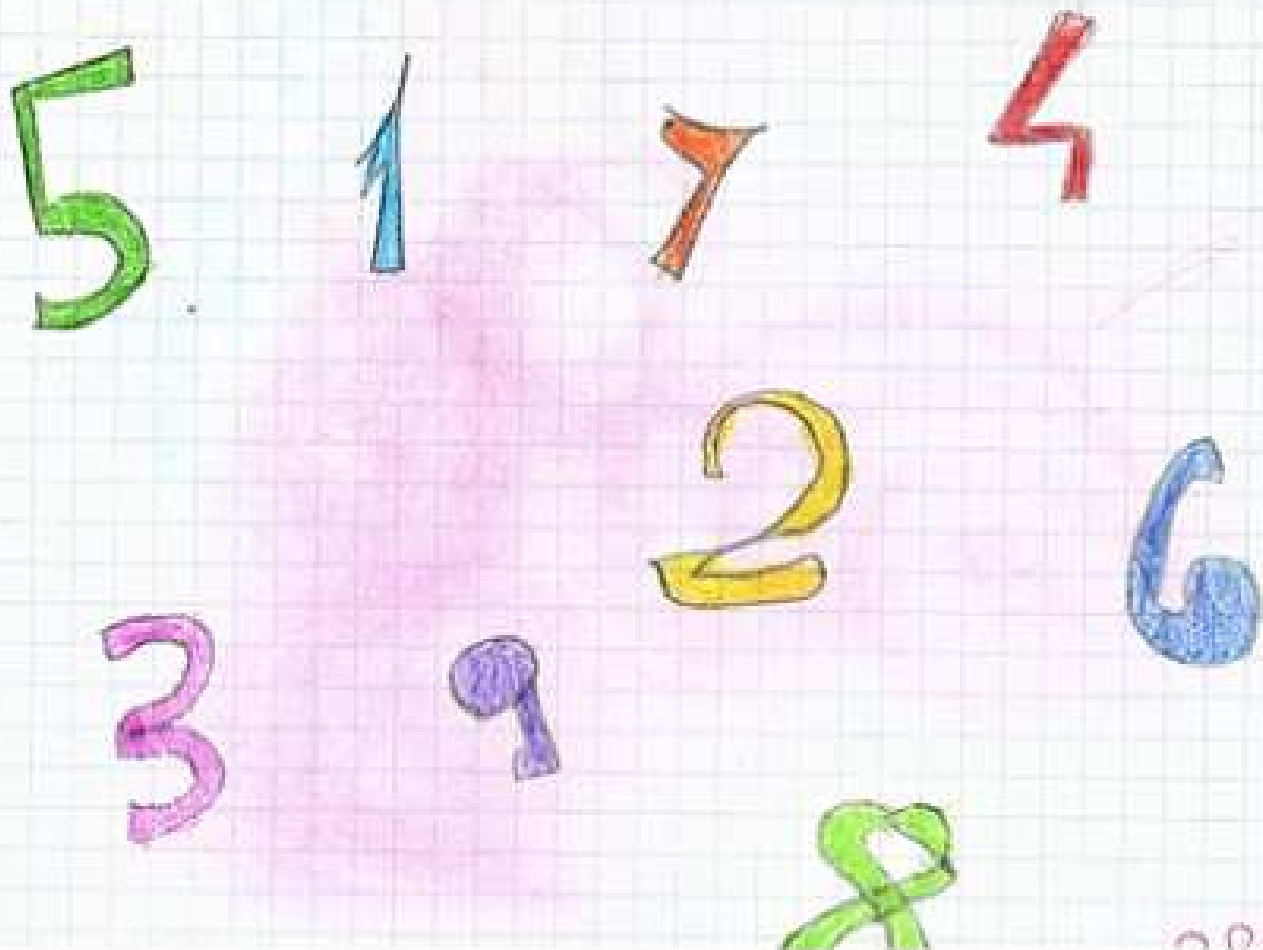
## PIÙ UNO

C'era una volta un tale  
che voleva trovare  
il numero più grande del mondo.  
Comincia a contare e mai si stanca:  
gli viene la barba grigia,  
gli viene la barba bianca,  
ma lui conta, conta sempre,  
milioni di milioni,  
di miliardi di miliardi,  
di strabilioni,  
di meraviglioni,  
di meravigliardi ...  
In punto di morte  
scrisse un numero lungo  
dalla Terra a Nettuno.  
Ma un bimbo gridò: - Più uno!  
E il grande calcolatore  
ammise, un poco triste,  
che il numero più grande  
del mondo non esiste.



Leggendo la poesia di Gianni Rodari abbiamo capito che non esiste il numero più grande del mondo.

Infatti i numeri sono <sup>infiniti</sup> ~~infatti~~, dopo qualsiasi numero posso scrivere il <sup>successivo</sup> cioè il numero che viene dopo.



MASSIMA



# STRUTTURA DEL NUMERO

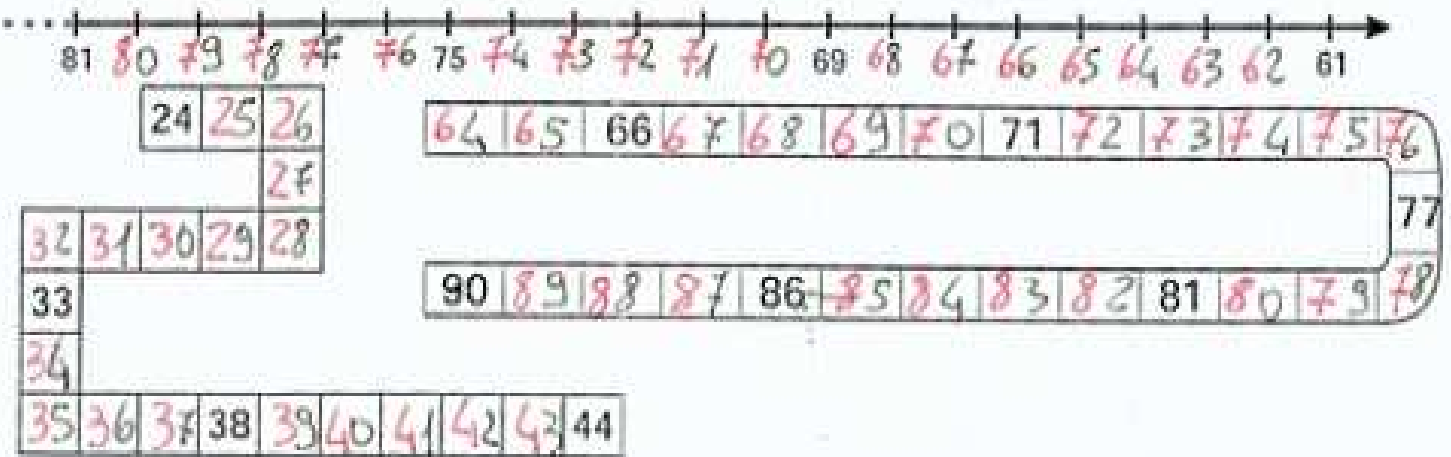
Trovare il precedente e il seguente nei numeri entro il 100

1) Completa scrivendo il numero che precede e quello che segue:

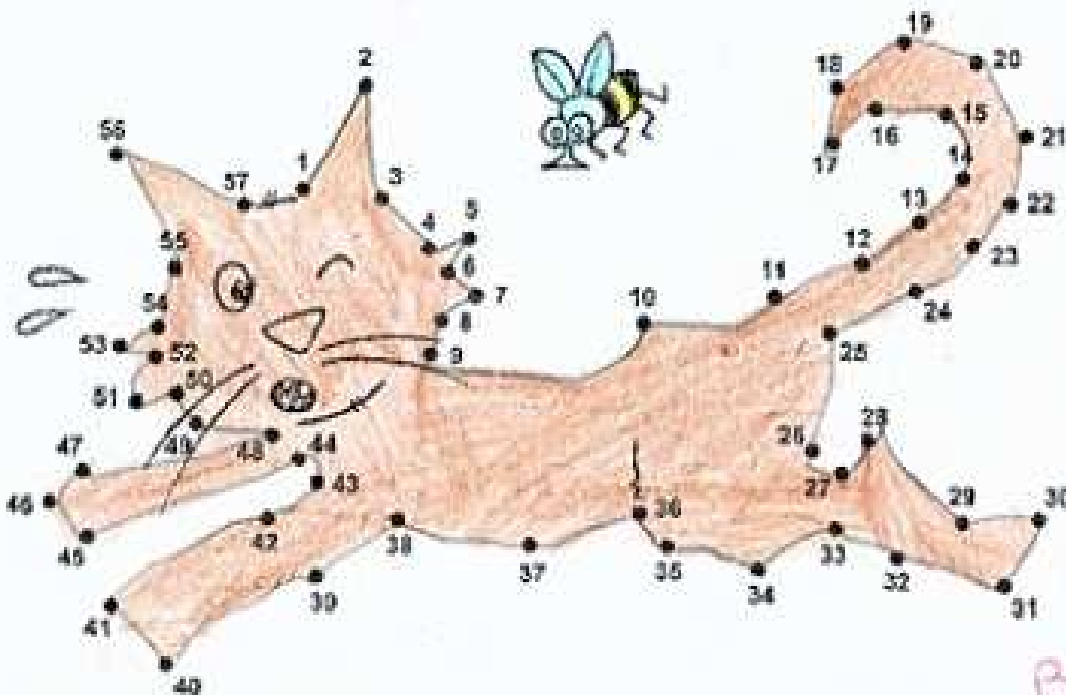
<u>41</u> 42 <u>43</u>	<u>49</u> 50 <u>51</u>	<u>98</u> 99 <u>100</u>	<u>65</u> 66 <u>67</u>
<u>9</u> 10 <u>11</u>	<u>74</u> 75 <u>76</u>	<u>89</u> 90 <u>91</u>	<u>80</u> 81 <u>82</u>
<u>22</u> 23 <u>24</u>	<u>70</u> 71 <u>72</u>	<u>18</u> 19 <u>20</u>	<u>36</u> 37 <u>38</u>
<u>14</u> 15 <u>16</u>	<u>69</u> 70 <u>71</u>	<u>33</u> 34 <u>35</u>	<u>19</u> 20 <u>21</u>
<u>48</u> 49 <u>50</u>	<u>92</u> 93 <u>94</u>	<u>50</u> 51 <u>52</u>	<u>68</u> 69 <u>70</u>

Conoscere l'ordine dei numeri entro il 100

2) Scrivi i numeri mancanti sulle linee:



3) Unisci i puntini dall'1 al 57, cosa hai scoperto?



BRAVISSIMA

20 settembre 2013

## STRUTTURA DEL NUMERO




Scrivere i numeri entro il 100 in cifre e in parola

1) Scrivi i seguenti numeri in cifre:

dieci	10	nove	9	sessantasette	67	undici	11
sette	7	novanta	90	ottantuno	81	settantotto	78
ventisei	26	novantanove	99	cento	100	ventiquattro	24
cinquanta	50	quarantacinque	45	uno	1	quindici	15
trentuno	31	diciotto	18	trentatre	33	cinquantadue	52

2) Scrivi i seguenti numeri in parola:

26	VENTISEI	9	NOVE	14	QUATTORDICI
35	TRENTACINQUE	64	SESSANTAQUATTRO	22	VENTIDUE
18	DICIOTTO	92	NOVANTADUE	8	OTTO
40	QUARANTA	71	SETTANTUNO	98	NOVANTOTTO
51	CINQUANTUNO	89	OTTANTANOVE	39	TRENTANOVE



Ordinare i numeri entro il 100 dal minore al maggiore (ordine crescente) e dal maggiore al minore (ordine decrescente)

3) Trascrivi i seguenti numeri in ordine crescente:

~~31 - 45 - 10 - 9 - 24 - 93 - 1 - 100 - 5 - 64~~

1 < 5 < 9 < 10 < 24 < 31 < 45 < 64 < 93 < 100

4) Trascrivi i seguenti numeri in ordine decrescente:

~~27 - 18 - 50 - 93 - 7 - 41 - 99 - 8 - 59 - 86~~

99 > 93 > 86 > 59 > 50 > 41 > 27 > 18 > 8 > 7

numeri da 0 a 100 per +2

0 2 4 6 8 10 12 14 16 18 20

22 24 26 28 30 32 34 36 38 40 42

44 46 48 50 52 54 56 58 60 62 64


66 68 70 72 74 76 78 80 82 84 86 88 90

92 94 96 98 100

23 settembre 2013


Numero da 100 a 1 per -3

100 97 94 91 88 85 82 79 76 73 70 67 64  
61 58 55 52 49 46 43 40 37 34 31 28  
25 22 19 16 13 10 7 4 1.



Numero da 0 a 100 per +5

0 5 10 15 20 25 30 35 40  
45 50 55 60 65 70 75 80 85  
90 95 100.



Numero da 100 a 0 per -4.

100 96 92 88 84 80 76  
72 68 64 60 56 52 48 44  
40 36 32 28 24 20 16 12  
8 4 0.

Numera da 96 a 0 per -6

96 90 84 78 72 66 60 54 48 42

36 30 24 18 12 6 0.



Numera da 4 a 100 per +8.

4 12 20 28 36 44 52 60 68 76

84 92 100.



Eseguito alla lavagna

# Tabelline, 0-1-2-3-4.

$4 \times 3 = 12$

$3 \times 7 = 21$

$2 \times 8 = 16$

$4 \times 5 = 20$

$3 \times 6 = 18$

$0 \times 10 = 0$

$4 \times 7 = 28$

$3 \times 8 = 24$

$1 \times 9 = 9$

$2 \times 2 = 4$

$2 \times 9 = 18$

$3 \times 9 = 27$

$3 \times 5 = 15$

$4 \times 4 = 16$

$0 \times 5 = 0$

$4 \times 8 = 32$

$2 \times 6 = 12$

$4 \times 6 = 24$

$2 \times 5 = 10$

$1 \times 7 = 7$

$4 \times 9 = 36$

$2 \times 4 = 8$

$4 \times 10 = 40$

Ottimo!!

Carla Pucci.



# Addizioni in colonna con la prova

$$27 + 34 = 61$$

da	u
2	7 +
3	4 =
<hr/>	
6	01

PROVA

da	u
3	4 +
2	7 =
<hr/>	
6	01



$$82 + 9 = 91$$

da	u
8	2 +
	9 =
<hr/>	
9	01

PROVA

da	u
9	9 +
8	2 =
<hr/>	
9	01

$$45 + 42 = 87$$

da	u
4	5 +
4	2 =
<hr/>	
8	7

PROVA

da	u
4	2 +
4	5 =
<hr/>	
8	7



$$25 + 45 = 70$$

PROVA

da	u
2	5 +
4	5 =
<hr/>	
7	0

da	u
4	5 +
2	5 =
<hr/>	
7	0

$$29 + 38 = 67$$

PROVA

da	u
2	9 +
3	8 =
<hr/>	
6	7

da	u
3	8 +
2	9 =
<hr/>	
6	7

prova.

$$75 - 36 = 39$$

da	u
<del>68</del> 15	-
3	6 =
3	9

PROVA

da	u
① 3	9 +
3	6 =
7	① 5

$$90 - 63 = 27$$

da	u
<del>87</del> 10	-
6	3 =
2	7

PROVA

da	u
① 2	7 +
6	3 =
9	① 0

$$81 - 26 =$$

da	u
<del>78</del> 11	-
2	6 =
5	5

PROVA

da	u
① 5	5 +
2	6 =
8	① 1

$$99 - 73 = 26$$

PROVA

99		u
9		9 -
7		3 =
<hr/>		
2		6

99		u
2		6 +
7		3
<hr/>		
9		9

Eseguito alla lavagna

---