
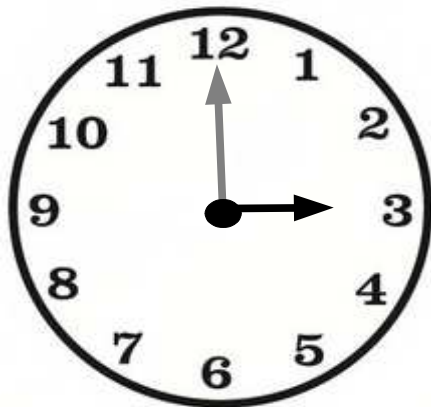


L'orologio



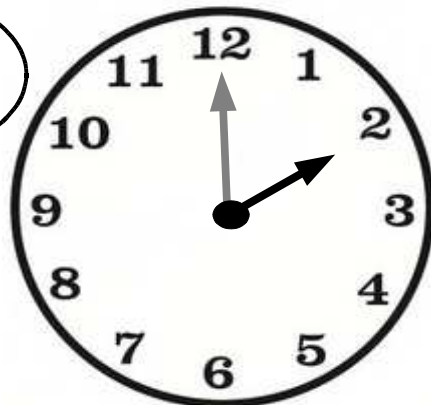
Adesso osserva bene le
Immagini di questi orologi.




Sono le 3.
La lancetta corta
è sul 3, la lancetta
lunga è sul 12.



Sono le 2.
La lancetta corta
è sul 2, la lancetta
lunga è sul 12.





Sono le 2 e trenta
o 2 e mezza.
La lancetta dei minuti ha
fatto mezzo giro
dell'orologio.



Che ore sono?

